



Notenschrift


Aufgabe 1: Fülle die Notenzeilen mit weiteren Notenschlüsseln auf.



Aufgabe 2: Liegt zwischen den beiden Noten ein Halb- (HTS) oder Ganztonschritt (GTS)?




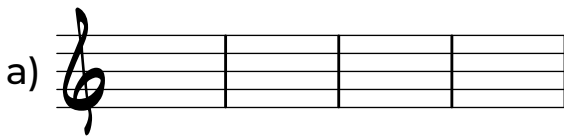
Aufgabe 3: Benenne die Töne, achte auf die richtige Oktavlage.



Aufgabe 4: Schreibe die Töne im Notensystem auf, achte auch hier auf die richtige Oktavlage!

des'' gis h'' fis'

G c' Es dis



Aufgabe 5: Beschrifte die Oktavlagen.




Notenschrift


Aufgabe 1: Fülle die Notenzeilen mit weiteren Notenschlüsseln auf.



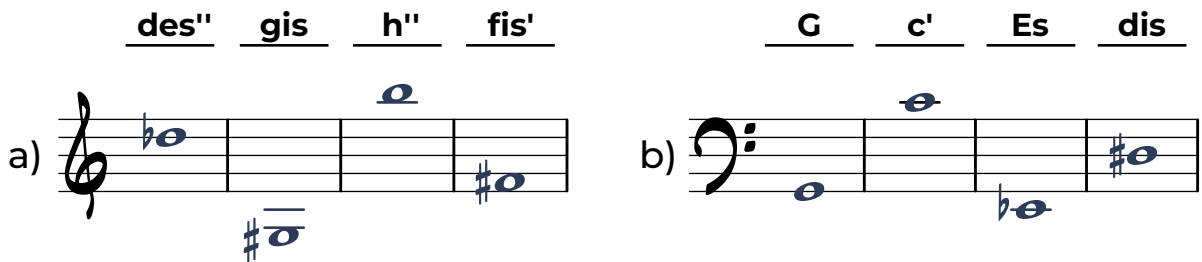
Aufgabe 2: Liegt zwischen den beiden Noten ein Halb- (HTS) oder Ganztonschritt (GTS)?



Aufgabe 3: Benenne die Töne, achte auf die richtige Oktavlage.



Aufgabe 4: Schreibe die Töne im Notensystem auf, achte auch hier auf die richtige Oktavlage!



Aufgabe 5: Beschrifte die Oktavlagen.

